

Duelighed i SF SYD – Eksempler på fakta-spørgsmål til eksamen.


Tid: 30 minutter Ingen hjælpemidler

Navn: _____

1a: Hvilket sømærke er det? _____

1b: Beskriv sømærkets evt. lys. _____

1c: Hvilke refleksbånd har sømærket? _____



2a: Hvilket sømærke er det? _____

2b: Beskriv sømærkets evt. lys. _____

2c: Hvilke refleksbånd har sømærket? _____



3: Nævn alle de nødsignaler, du kan huske.

_____	_____	_____
_____	_____	_____
_____	_____	_____
_____	_____	_____



Duelighed i SF SYD – Eksempler på fakta-spørgsmål til eksamen.

Tid: 30 minutter Ingen hjælpemidler


4: Hvad betyder lydsignalet ■ ■ ■ ■ ■ (mindst 5 korte toner)?

5: Hvad betyder lydsignalet ■ ■ (2 korte toner)?



6a: Hvilken skibstype viser disse / dette lys?

6b: Hvilken side af skibet kan ses?



6c: Kan du afgøre om skibet gør fart? _____

6d: Kan du afgøre skibets længde? _____

6e: Hvad er skibets tågesignal? _____


6f: Tegn eller beskriv skibets eventuelle dagsignal!

Duelighed i SF SYD – Eksempler på fakta-spørgsmål til eksamen.

Tid: 30 minutter Ingen hjælpemidler

7a: Hvilken skibstype viser disse / dette lys?

7b: Hvilken side af skibet kan ses?



7c: Kan du afgøre om skibet gør fart? _____

7d: Kan du afgøre skibets længde? _____

7e: Hvad er skibets tågesignal? _____

7f: Tegn eller beskriv skibets eventuelle dagsignal!



8a: Hvordan kan man undersøge, om der er fare for sammenstød, når to skibe nærmer sig hinanden?

Hvis der er fare for sammenstød mellem skib A og skib B, og skib A skal vige;

8b: Hvordan skal skib A da udføre sin vigemanøvre?

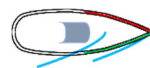
8c: - og hvordan skal skib B forholde sig? _____



Duelighed i SF SYD – Eksempler på fakta-spørgsmål til eksamen.

Tid: 30 minutter Ingen hjælpemidler

HVEM SKAL VIGE I DE FIRE SITUATIONER HERUNDER?



= sejlskib

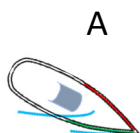


= maskindrevet skib

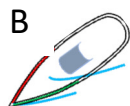
Anfør med pile eller beskriv hvordan skibene skal eller kan forholde sig

- både det skib, der skal vige, og det skib, der ikke skal vige.

9:

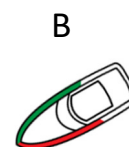


A

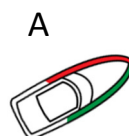


B

10:

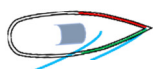


B

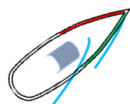


A

11:

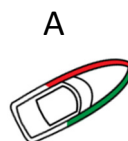


A



B

12:



A



B