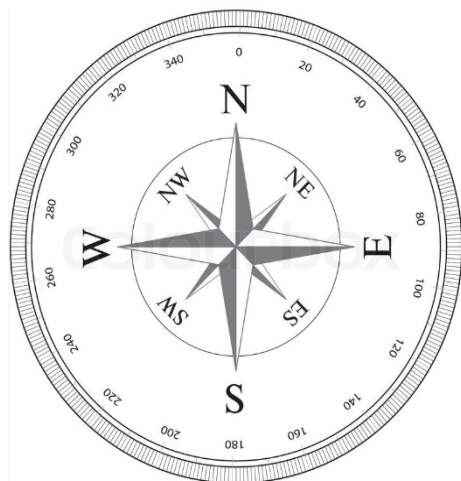


Deviationskontrol

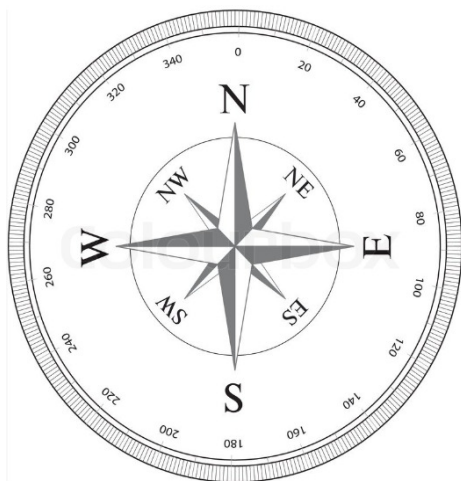
Kurs opmålt i søkortet	St.K.Rv.	_____
(V = plus, Ø = minus) mv.		_____
Forventet kompasvisning	St.K.Mv.	_____
Observeret kompasvisning	St.K.Dv.	_____
(V = negativ, Ø = positiv) dv.		_____



Hvis forventet kompasvisning minus observeret kompasvisning er positiv, er deviationen østlig (St.K.Mv. er størst)

Hvis forventet kompasvisning minus observeret kompasvisning er negativ, er deviationen vestlig (St.K.Dv. er størst)

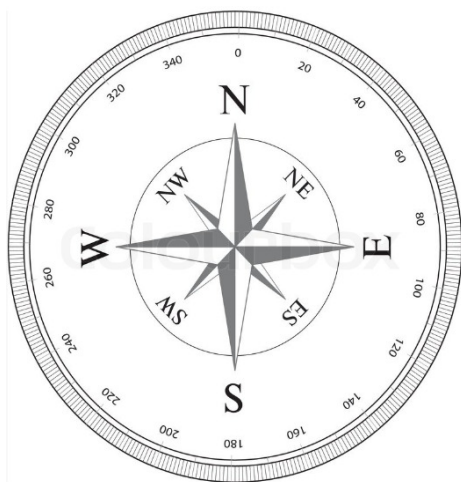
Kurs opmålt i søkortet	St.K.Rv.	_____
(V = plus, Ø = minus) mv.		_____
Forventet kompasvisning	St.K.Mv.	_____
Observeret kompasvisning	St.K.Dv.	_____
(V = negativ, Ø = positiv) dv.		_____



Hvis forventet kompasvisning minus observeret kompasvisning er positiv, er deviationen østlig (St.K.Mv. er størst)

Hvis forventet kompasvisning minus observeret kompasvisning er negativ, er deviationen vestlig (St.K.Dv. er størst)

Kurs opmålt i søkortet	St.K.Rv.	_____
(V = plus, Ø = minus) mv.		_____
Forventet kompasvisning	St.K.Mv.	_____
Observeret kompasvisning	St.K.Dv.	_____
(V = negativ, Ø = positiv) dv.		_____



Hvis forventet kompasvisning minus observeret kompasvisning er positiv, er deviationen østlig (St.K.Mv. er størst)

Hvis forventet kompasvisning minus observeret kompasvisning er negativ, er deviationen vestlig (St.K.Dv. er størst)
